

Profion Rhifedd Cenedlaethol



165106



Llywodraeth Cymru
Welsh Government



Cyfanswm y sgôr

(uchafswm 35)

Dyddiad y prawf

Dyddiad geni

Dosbarth

Ysgol

Cyfenw

Enw cyntaf

7CG18

GWEITHDREFNOL

1

24 +

= 90

15 ×

= 90

3 + 4 × 5 =

2 Ysgrifennwch y rhif dau gan mil a deg mewn ffigurau.

3



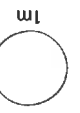
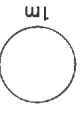
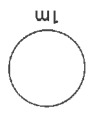
Brecwast £3.90

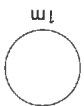
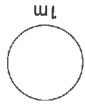
Mae Glenys yn prynu **dau** frecwast.

Mae'n talu gyda phapur £10

Faint o newid mae hi'n ei gael?

£





Pris gwreiddiol £12
Nawr $\frac{1}{3}$ yn llai

Bag B

Pris gwreiddiol £14
Nawr yn hanner pris





Bag A

Mae pris bag A nawr yn llai na bag B.

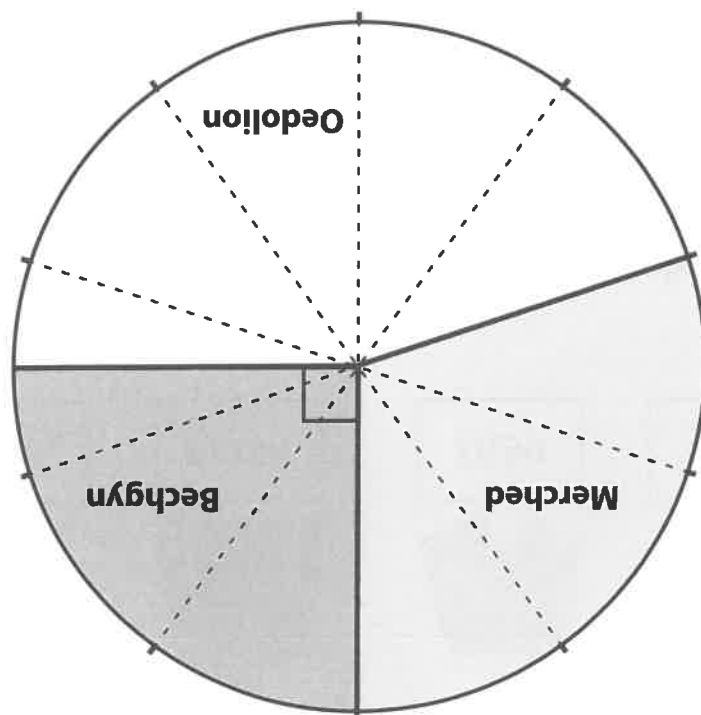
£

£

Amcangyfrifwch, i'r £ agosaf, gyfanswm cost y pedair eitem hyn.

			
£3.95	£6.99	£12.99	£9.95

Suart cylch i ddangos nifer y bobl sy'n gwyllo ffilm



Defnyddiwch y siart cylch i gyfrifo'r rhifau sydd ar goll yn y tabl.

Amllder	Bechgyn	Merched	Oedolion	Cyfanswm nifer y bobl
	25			



1m

1m

1m

1m

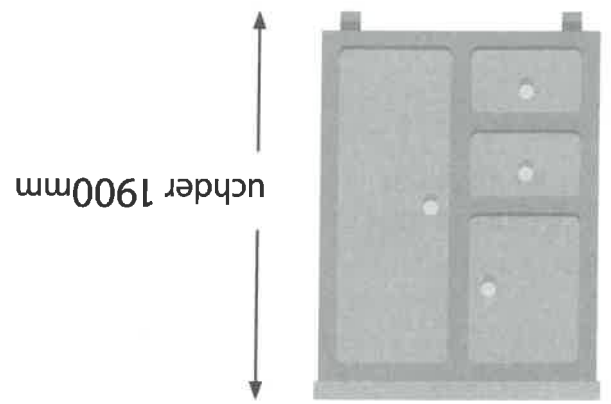
88 = %

= 300 %

8

cm

Ysgrifennwch yr uchder mewn centimetrau.



7

ml

Mae hi eisiau cymysgu paent a dŵr yn y gymhareb 4 : 1
 Mae'n defnyddio 800ml o baent.
 Faint o dŵr ddylai hi ei ddefnyddio?

6

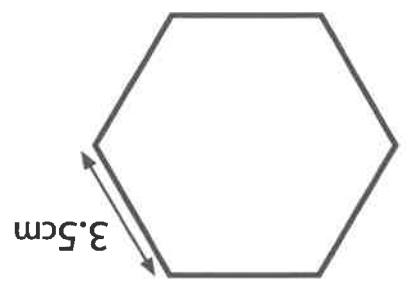
9 Dinas yn Awstralia yw Adelaide.

Maer amser yng Nghymru $8\frac{1}{2}$ awr y tu ôl i'r amser yn Adelaide.

Os yw hi'n **4pm** yn Adelaide, faint o'r gloch yw hi yng Nghymru?

1m

10 Cyfrifwch berimedr yr hecsagon rheolaidd hwn.



Heb ei lunio'n
fanwl gywir

1m



Frynodd Mr Roberts gar newydd. Talodd £20260

Wedyn gwerthodd y car am £16995 gan wneud colled o

1m

11

Cyfrifwch 144×28

12



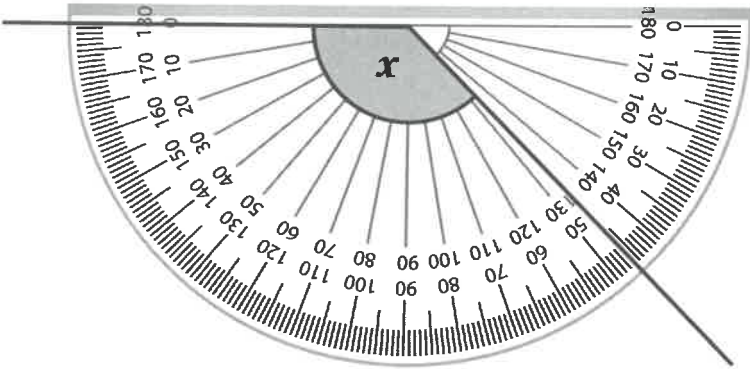
2m



Ysgrifennwch $\frac{1}{3}$ fel degolyn, wedi'i dalgrynnau i 2 le degol.

13

1m



14

o

Ongl $x =$


1m



CYFANSWM



2m



17 Cyfrifwch 45% o 820

1m

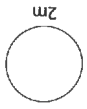
930 940 950 960

16 Rhwch gylich o amgylch y rhifau isod sy'n rhanadwy â 3

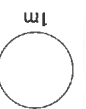
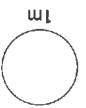
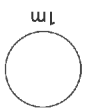
2m

		$\frac{7}{10}$
Canran	Degolyn	Ffracsiwn

15 Ysgrifennwch y rhifau sydd ar goll yn y tabl.



19 Gyfrifwch $13^2 - 12^2$



$$8 \div 0.2 =$$



$$200 \div 2.5 =$$



$$200 \div 25 =$$

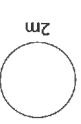
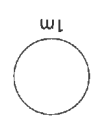
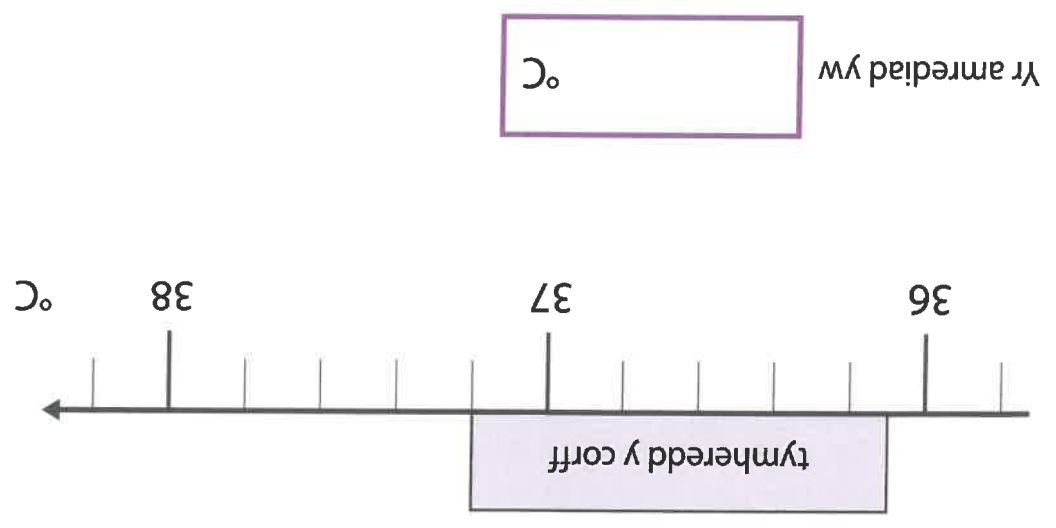
18

20 Ysgrifennwch dri rhif sydd â

- chymedr o 10, a
- modd o 7

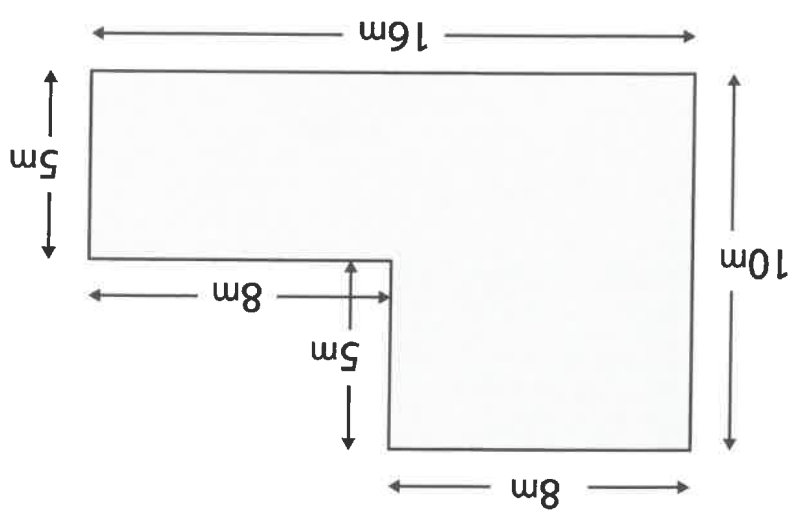


21 Mae tymheredd person iach o fewn yr amrediad isod.



Maer siâp L hwn wedi ei wneud o ddau betryal. Cyfrifwch gyfanswm ei arwynebedd.

Heb ei lunio!
faint llawn



Arwynebedd = m²

